


令和5年度毒物劇物取扱者試験問題

特定品目





令和5年9月6日（水） 午後1時30分～午後3時30分

注意事項


指示があるまで開いてはいけません。

- 1 問題の解答は、必ずこの問題集とは別に配ってある答案用紙に記入してください。
- 2 問題は全部で60題あり、時間は2時間です。
- 3 解答方法は次のとおりです。
各問題には1～4までの4つの選択肢があるので、そのうちから正解を1つ選び、次の例にならって該当する番号の  をHB鉛筆を用いて塗りつぶしてください。

例 問60の正解が「3」の場合は次のようになります。

60				
----	---	---	---	---

悪い解答の例 ……        

- 4 訂正する場合は、塗りつぶした箇所を消しゴムできれいに消してから、改めて正解の箇所を塗りつぶしてください。
鉛筆の色が残ったりした場合は、訂正したことになりませんから注意してください。
- 5 2つ以上解答した場合は誤りとします。
- 6 答案用紙は、折り曲げたりメモ等で汚したりしないように特に注意してください。
- 7 答案用紙に、受験番号・氏名・受験日を記載するとともに、該当する番号の  を塗りつぶしてください。
- 8 答案用紙の上部中央の空欄内に試験種別「特定品目」と記載してください。
- 9 設問中の物質の性状は、特に規定しない限り常温常圧におけるものとします。
- 10 設問中の「法」又は「法律」とは「毒物及び劇物取締法」を、「政令」とは「毒物及び劇物取締法施行令」を、「厚生労働省令」又は「省令」とは「毒物及び劇物取締法施行規則」をそれぞれいうものとします。

山 形 県

毒物及び劇物に関する法規

問1 以下の記述は、毒物及び劇物取締法の条文である。()の中に入る字句として、正しいものの組み合わせはどれか。

第1条

この法律は、毒物及び劇物について、(a)の見地から必要な(b)を行うことを目的とする。

番号	a	b
1	保健衛生上	規制
2	保健衛生上	取締
3	公衆衛生上	規制
4	公衆衛生上	取締

問2 次のうち、毒物及び劇物取締法第3条の2の規定に基づき、毒物及び劇物取締法施行令で定める四アルキル鉛を含有する製剤の取扱いとして、正しいものの組み合わせはどれか。

- a この製剤は、石油精製業者（原油から石油を精製することを業とする者をいう。）でなければ使用することができない。
- b この製剤の用途は、灯油への混入に限られている。
- c この製剤は、黒色に着色しなければならない。
- d この製剤の容器は、四アルキル鉛を含有する製剤が入っている旨及びその内容量を表示しなければならない。

1 (a、b) 2 (a、d) 3 (b、c) 4 (c、d)

問3 次のうち、毒物及び劇物取締法第3条の2第9項の規定に基づき、モノフルオール酢酸アミドを含有する製剤の着色の基準として、毒物及び劇物取締法施行令で定めるものはどれか。

- 1 赤色
- 2 青色
- 3 黄色
- 4 緑色

問4 次のうち、毒物及び劇物取締法第3条の3の規定に基づく、興奮、幻覚又は麻酔の作用を有する毒物又は劇物（これらを含する物を含む。）であって、毒物及び劇物取締法施行令で定めるものとして、正しいものの組み合わせはどれか。

- a フェノールを含有する塗料
- b クロロホルム
- c トルエン
- d メタノールを含有するシンナー

1 (a、b) 2 (a、c) 3 (b、d) 4 (c、d)

問5 次のうち、毒物及び劇物取締法第3条の4の規定に基づく、引火性、発火性又は爆発性のある毒物又は劇物であって、毒物及び劇物取締法施行令で定めるものとして、正しいものの組み合わせはどれか。

- a 亜塩素酸ナトリウム
- b 水酸化ナトリウム
- c クロルスルホン酸
- d ピクリン酸

1 (a、b) 2 (a、d) 3 (b、c) 4 (c、d)

問6 次のうち、毒物及び劇物取締法第7条及び第8条の規定に基づく毒物劇物取扱責任者に関する記述として、正しいものはどれか。

- 1 毒物劇物営業者が毒物又は劇物の輸入業及び販売業を併せて営む場合において、その営業所と店舗が互いに隣接しているときは、毒物劇物取扱責任者は2つの施設を通じて1人で足りる。
- 2 毒物劇物営業者は、毒物劇物取扱責任者を変更するときは、事前に届け出なければならない。
- 3 薬剤師は、毒物劇物一般販売業の店舗において毒物劇物取扱責任者になることができない。
- 4 特定品目毒物劇物取扱者試験に合格した者は、特定品目のみを取り扱う毒物劇物製造業の製造所において毒物劇物取扱責任者になることができる。

問7 次のうち、毒物及び劇物取締法第10条の規定に基づき、毒物劇物販売業者が30日以内に届け出なければならない場合として、正しいものの組み合わせはどれか。

- a 毒物劇物販売業者が法人であって、その代表者を変更したとき
- b 店舗の営業時間を変更したとき
- c 店舗の名称を変更したとき
- d 店舗における営業を廃止したとき

1 (a、b) 2 (a、d) 3 (b、c) 4 (c、d)

問8 以下の記述は、毒物及び劇物取締法の条文の一部である。()の中に入る字句として、正しいものはどれか。

第11条第4項

毒物劇物営業業者及び特定毒物研究者は、毒物又は厚生労働省令で定める劇物については、その容器として、()の容器として通常使用される物を使用してはならない。

- 1 殺虫剤
- 2 医薬品
- 3 洗剤
- 4 飲食物

問9 次のうち、毒物及び劇物取締法第12条の規定に基づく毒物又は劇物の表示に関する記述として、正しいものの組み合わせはどれか。

- a 毒物の容器及び被包に、「医薬用外」の文字及び黒地に白色をもって「毒物」の文字を表示しなければならない。
- b 劇物の容器及び被包に、「医薬用外」の文字及び白地に赤色をもって「劇物」の文字を表示しなければならない。
- c 特定毒物の容器及び被包に、「医薬用外」の文字及び赤地に白色をもって「特定毒物」の文字を表示しなければならない。
- d 劇物を貯蔵し、又は陳列する場所に、「医薬用外」の文字及び「劇物」の文字を表示しなければならない。

1 (a、b) 2 (a、c) 3 (b、d) 4 (c、d)

問 10 次のうち、毒物及び劇物取締法第 1 2 条第 2 項第 3 号の規定に基づき、毒物劇物営業者が、その容器及び被包に解毒剤の名称を表示したものでなければ、販売し、又は授与してはならない毒物又は劇物として、毒物及び劇物取締法施行規則で定めるものはどれか。

- 1 無機シアン化合物
- 2 砒素化合物
- 3 カドミウム化合物
- 4 有機^{りん}化合物

問 11 次のものを含有する製剤たる劇物のうち、毒物及び劇物取締法第 1 3 条の規定に基づき、着色したものでなければ、農業用として販売し、又は授与してはならないとして、毒物及び劇物取締法施行令で定めるものはどれか。

- 1 ^{りん} 燐化亜鉛
- 2 酢酸タリウム
- 3 二硫化炭素
- 4 クロルピクリン

問 12 次のうち、毒物及び劇物取締法第 1 4 条の規定に基づき、毒物劇物営業者が他の毒物劇物営業者に毒物又は劇物を販売したときに、書面に記載しなければならない事項（法定事項）及びその取扱いとして、正しいものの組み合わせはどれか。

- a 書面には、販売した毒物又は劇物の製造番号を記載しなければならない。
- b 書面には、譲受人の職業を記載しなければならない。
- c 書面は、販売の日から 3 年間保存しなければならない。
- d 書面には、法定事項を販売の都度、記載しなければならない。

- 1 (a、b) 2 (a、c) 3 (b、d) 4 (c、d)

問 13 以下の記述は、毒物及び劇物取締法の条文の一部である。()の中に入る字句として、正しいものの組み合わせはどれか。

第15条第1項

毒物劇物営業者は、毒物又は劇物を次に掲げる者に交付してはならない。

- 一 (a) 歳未満の者
- 二 (b) の障害により毒物又は劇物による保健衛生上の危害の防止の措置を適正に行うことができない者として厚生労働省令で定めるもの
- 三 麻薬、(c)、あへん又は覚せい剤の中毒者

番号	a	b	c
1	十八	身体	シンナー
2	十八	心身	大麻
3	二十	身体	大麻
4	二十	心身	シンナー

問 14 次のうち、毒物及び劇物取締法第15条の2の規定に基づき、毒物及び劇物取締法施行令で定める毒物又は劇物の廃棄方法として、正しいものの組み合わせはどれか。

- a 中和、加水分解、酸化、還元、稀釈その他の方法により、毒物及び劇物並びに法第11条第2項に規定する政令で定める物のいずれにも該当しない物とすること。
- b 可燃性の毒物又は劇物は、保健衛生上危害を生ずるおそれがない場所で、少量ずつ燃焼させること。
- c ガス体又は揮発性の毒物又は劇物は、保健衛生上危害を生ずるおそれがない場所で、一気に放出し、又は揮発させること。
- d 地下0.5メートル以上で、かつ、地下水を汚染するおそれがない地中に確実に埋め、海面上に引き上げられ、若しくは浮き上がるおそれがない方法で海水中に沈め、又は保健衛生上危害を生ずるおそれがないその他の方法で処理すること。

- 1 (a、b) 2 (a、c) 3 (b、d) 4 (c、d)

問 15 以下の記述は、毒物及び劇物取締法施行規則の条文の一部である。()の中に入る字句として、正しいものの組み合わせはどれか。

第13条の5

令第四十条の五第二項第二号に規定する標識は、(a)メートル平方の板に(b)として「毒」と表示し、(c)の見やすい箇所に掲げなければならない。

参考：毒物及び劇物取締法施行令第40条の5第2項第2号

車両には、厚生労働省令で定めるところにより標識を掲げること。

番号	a	b	c
1	〇・三	地を黒色、文字を白色	車両の前後
2	〇・三	地を白色、文字を黒色	車両の後方
3	〇・五	地を黒色、文字を白色	車両の前方
4	〇・五	地を白色、文字を黒色	車両の前後

問 16 次のうち、1回につき1,000キログラムを超える毒物又は劇物を車両を使用して運搬する場合で、当該運搬を他に委託するとき、毒物及び劇物取締法施行令第40条の6の規定に基づき、その荷送人が、運送人に対し、あらかじめ交付しなければならない書面に記載する事項として、正しいものの組み合わせはどれか。

- a 毒物又は劇物の名称
- b 毒物又は劇物の製造業者の所在地
- c 事故の際に講じなければならない応急の措置の内容
- d 廃棄の方法

- 1 (a、b) 2 (a、c) 3 (b、d) 4 (c、d)

問 17 次のうち、毒物及び劇物取締法施行令第 40 条の 9 並びに毒物及び劇物取締法施行規則第 13 条の 12 の規定に基づき、毒物劇物業者が毒物又は劇物を販売する時まで、譲受人に対し提供しなければならない情報として、誤っているものはどれか。

- 1 毒物又は劇物の別
- 2 漏出時の措置
- 3 取扱い及び保管上の注意
- 4 使用期限

問 18 以下の記述は、毒物及び劇物取締法の条文の一部である。() の中に入る字句として、正しいものの組み合わせはどれか。

第 17 条第 1 項

毒物劇物業者及び特定毒物研究者は、その取扱いに係る毒物若しくは劇物又は第十一条第二項の政令で定める物が飛散し、漏れ、流れ出し、染み出し、又は地下に染み込んだ場合において、不特定又は多数の者について保健衛生上の危害が生ずるおそれがあるときは、(a)、その旨を(b)に届け出るとともに、保健衛生上の危害を防止するために必要な応急の措置を講じなければならない。

番号	a	b
1	直ちに	警察署又は消防機関
2	直ちに	保健所、警察署又は消防機関
3	七日以内に	保健所、警察署又は消防機関
4	七日以内に	警察署又は消防機関

問 19 次のうち、毒物及び劇物取締法第 21 条第 1 項の規定に基づき、毒物劇物製造業者が、その営業の登録の効力を失ったときに、現に所有する特定毒物の品名及び数量を、その製造所の所在地の都道府県知事に届け出なければならない期限として、正しいものはどれか。

- 1 直ちに
- 2 7 日以内
- 3 15 日以内
- 4 30 日以内

問 20 次のうち、毒物及び劇物取締法第 22 条第 1 項の規定に基づく業務上取扱者の届出が必要な事業であって、毒物及び劇物取締法施行令で定めるものとして、正しいものの組み合わせはどれか。

- a シアン化ナトリウムを使用して、金属熱処理を行う事業
- b 亜硫酸^ひを使用して、しろありの防除を行う事業
- c 塩酸を使用して、電気めっきを行う事業
- d モノフルオール酢酸の塩類を含有する製剤を使用して、野ねずみの駆除を行う事業

1 (a、b) 2 (a、c) 3 (b、d) 4 (c、d)

基礎化学

問 21 以下の記述は、混合物の分離に関するものである。()の中に入る字句の組み合わせとして、最も適当なものはどれか。

ろ紙などを用い、液体とその液体に溶けない固体を分離する操作のことを (a) という。

また、温度によって (b) が変化することを利用した分離方法を再結晶という。

番号	a	b
1	ろ過	溶解度
2	ろ過	粘度
3	蒸留	溶解度
4	蒸留	粘度

問 22 次のうち、青緑の炎色反応を示す元素として、最も適当なものはどれか。

- 1 カリウム
- 2 銅
- 3 ナトリウム
- 4 リチウム

問 23 次のうち、常温、常圧で空気より軽い気体として、最も適当なものはどれか。

- 1 二酸化炭素
- 2 硫化水素
- 3 塩化水素
- 4 メタン

問 24 0.05 mol/L 酢酸水溶液の pH が 3 のとき、この水溶液中での酢酸の電離度として、最も適当なものはどれか。

- 1 0.01
- 2 0.02
- 3 0.05
- 4 0.10

問 25 次のうち、水溶液が塩基性を示すものとして、最も適当なものはどれか。

- 1 塩化アンモニウム
- 2 硝酸カリウム
- 3 炭酸ナトリウム
- 4 塩化ナトリウム

問 26 次のうち、最も沸点が高いものはどれか。

- 1 塩化水素
- 2 ヨウ化水素
- 3 臭化水素
- 4 フッ化水素

問 27 次のうち、ボイル・シャルルの法則に関する記述として、最も適当なものはどれか。

- 1 一定物質量の気体の質量は、圧力と絶対温度に比例する。
- 2 一定物質量の気体の質量は、圧力と絶対温度に反比例する。
- 3 一定物質量の気体の体積は、圧力に反比例し、絶対温度に比例する。
- 4 一定物質量の気体の体積は、圧力に比例し、絶対温度に反比例する。

問 28 次のうち、9%塩化ナトリウム水溶液30 gに21%塩化ナトリウム水溶液6 gを加えた溶液の質量パーセント濃度(%)として、最も適当なものはどれか。

- 1 11%
- 2 13%
- 3 15%
- 4 17%

問 29 次のうち、密度が 1.04 g/cm^3 である5%水酸化ナトリウム水溶液の質量モル濃度として、最も近い値はどれか。ただし、水酸化ナトリウムの分子量は40とする。

- 1 0.0132 mol/kg
- 2 0.132 mol/kg
- 3 1.32 mol/kg
- 4 13.2 mol/kg

問 30 以下の記述は、コロイド溶液の性質に関するものである。()の中に入る字句として、最も適当なものはどれか。

コロイド溶液に横から強い光を当てると、光の進路が明るく輝いて見える。これを()という。

- 1 ブラウン運動
- 2 電気泳動
- 3 チンダル現象
- 4 凝析

問 31 次の金属をイオン化傾向の大きい順に並べたとき、最も適当なものはどれか。

- 1 $\text{Na} > \text{Cu} > \text{Fe} > \text{K}$
- 2 $\text{Na} > \text{K} > \text{Cu} > \text{Fe}$
- 3 $\text{K} > \text{Fe} > \text{Cu} > \text{Na}$
- 4 $\text{K} > \text{Na} > \text{Fe} > \text{Cu}$

問 32 次のうち、酸化還元反応に関する記述として、最も適当なものはどれか。

- 1 還元剤は、反応相手の物質より還元されやすい物質である。
- 2 酸化剤は、反応相手の物質の酸化数を増加させる物質である。
- 3 物質が電子を失ったとき、その物質は還元されたという。
- 4 物質が水素を受け取ったとき、その物質の酸化数は増加する。

問 33 次のハロゲン化水素の水溶液を酸性の強い順に並べたとき、最も適当なものはどれか。

- 1 $\text{HBr} > \text{HI} > \text{HF} > \text{HCl}$
- 2 $\text{HCl} > \text{HF} > \text{HI} > \text{HBr}$
- 3 $\text{HI} > \text{HBr} > \text{HCl} > \text{HF}$
- 4 $\text{HF} > \text{HCl} > \text{HBr} > \text{HI}$

問 34 次のうち、常温の水と激しく反応し、水素を発生するものとして、最も適当なものはどれか。

- 1 鉛
- 2 ニッケル
- 3 ナトリウム
- 4 モリブデン

問 35 次のうち、互いに構造異性体であるものの組み合わせとして、最も適当なものはどれか。

- a 酢酸
- b メタノール
- c 酢酸エチル
- d ギ酸メチル

- 1 (a、b)
- 2 (a、d)
- 3 (b、c)
- 4 (c、d)

問 36 次のうち、分子量が最も小さいものはどれか。

- 1 ブタン
- 2 エチレン
- 3 エタン
- 4 プロパン

問 37 次のうち、アミノ基の識別に用いられる反応として、最も適当なものはどれか。

- 1 ニンヒドリン反応
- 2 銀鏡反応
- 3 キサントプロテイン反応
- 4 ビウレット反応

問 38 次のうち、トルエンの分子量として、最も適当なものはどれか。ただし、原子量は $H=1$ 、 $C=12$ 、 $N=14$ 、 $O=16$ とする。

- 1 78
- 2 92
- 3 94
- 4 106

問 39 次のうち、水銀の元素記号として、最も適当なものはどれか。

- 1 Ag
- 2 Au
- 3 Hg
- 4 Pt

問 40 次のうち、100 ppmを%に換算した場合の値として、最も適当なものはどれか。

- 1 0.000001%
- 2 0.0001%
- 3 0.01%
- 4 1%

毒物及び劇物の性質及び貯蔵その他取扱方法

問 41 次のうち、劇物の指定から除外される製剤として、正しいものはどれか。

- 1 アンモニアを 15%含有する製剤
- 2 塩化水素を 5%含有する製剤
- 3 酸化水銀を 3%含有する製剤
- 4 硝酸を 15%含有する製剤

問 42 次のうち、四塩化炭素に関する記述の正しい組み合わせとして、最も適当なものはどれか。

- a 特有の臭気をもつ無色の液体である。
- b 火災などで強熱されると、刺激臭をもつホスゲンが発生するおそれがある。
- c 揮発性の蒸気の吸入により、黄疸^{だん}のように角膜が黄色になることがある。
- d 蒸気は空気より軽く、高所に滞留する。

- 1 (a、b) 2 (a、c) 3 (b、d) 4 (c、d)

問 43 次のうち、水酸化カリウムに関する記述の正しい組み合わせとして、最も適当なものはどれか。

- a 水やアルコールに吸熱しながら溶ける。
- b 二酸化炭素や湿気を強く吸収するため、密栓をして貯蔵する。
- c 水溶液は強い引火性を有する。
- d 水溶液はアルミニウム、錫、亜鉛^{すず}等の金属を腐食して水素ガスを生成し、これが空気と混合して引火爆発することがある。

- 1 (a、b) 2 (a、c) 3 (b、d) 4 (c、d)

問 44 次のうち、物質の名称とその主な用途の組み合わせとして、誤っているものはどれか。

番号	名称	用途
1	クロム酸ナトリウム	工業用還元剤
2	^{しゅう} 修酸	^{なっせん} 捺染剤、木・コルク・綿・ ^{わた} 藁製品等の漂白剤
3	^{けいふつ} 硅弗化ナトリウム	^{ゆう} 釉薬
4	一酸化鉛	顔料

問 45 次のうち、過酸化水素に関する記述の正しい組み合わせとして、最も適当なものはどれか。

- a 不安定な化合物であるため、製品には安定剤として少量のアルカリ性物質が添加されている。
- b 酸化作用はあるが、還元作用はない。
- c 少量ならば褐色ガラス瓶、大量ならばカーボイなどを使用し、3分の1の空間を保って貯蔵する。
- d 分解が起こると激しく酸素を生成し、周囲に易燃物があると火災になるおそれがある。

1 (a、b) 2 (a、c) 3 (b、d) 4 (c、d)

問 46 次のうち、硝酸に関する記述として、誤っているものはどれか。

- 1 無色無臭の液体で、湿気を含んだ空気中では発煙する。
- 2 動物性の組織を褐色に染める。
- 3 強酸性の酸化剤であり、多くの金属を溶解する。
- 4 経口摂取により、口腔^{くわう}以下の消化管に強い腐食性火傷を生じる。

問 47 次のうち、トルエンに関する記述の正しい組み合わせとして、最も適当なものはどれか。

- a 無色透明でベンゼン様の臭気をもつ固体である。
- b 蒸気と空気が混合されると、爆発性のガスとなるおそれがある。
- c 蒸気の大量吸入により、緩和な大赤血球性貧血をきたすことがある。
- d 水に可溶であり、エタノールやエーテルに不溶である。

1 (a、b) 2 (a、d) 3 (b、c) 4 (c、d)

問 48 次のうち、塩素に関する記述の正しい組み合わせとして、最も適当なものはどれか。

- a 窒息性の臭気をもつ赤褐色の気体である。
- b 液化塩素は極めて安定性が高く、水素と接しても反応しない。
- c 粘膜接触により刺激症状を呈し、目、鼻、咽喉及び口腔粘膜に障害を与える。
- d 酸化剤や紙・パルプの漂白剤として使用される。

1 (a、b) 2 (a、c) 3 (b、d) 4 (c、d)

問 49 次のうち、メタノールに関する記述の正しい組み合わせとして、最も適当なものはどれか。

- a 無色透明な液体で、青色の炎をあげて燃える。
- b 爆発性があり危険であるため、燃料として使用されることはない。
- c 粘膜を刺激することはあるが、皮膚から吸収されることはない。
- d 高濃度の蒸気に長時間暴露された場合、失明することがある。

1 (a、b) 2 (a、d) 3 (b、c) 4 (c、d)

問 50 次のうち、キシレンに関する記述として、誤っているものはどれか。

- 1 3種の異性体が存在する。
- 2 水に不溶である。
- 3 獣毛、羽毛、綿糸等の漂白剤として使用される。
- 4 静電気により引火することがある。

毒物及び劇物の識別及び取扱方法

問 51 次のうち、メチルエチルケトンの廃棄方法に関する記述として、最も適当なものはどれか。なお、廃棄方法は厚生労働省で定める「毒物及び劇物の廃棄の方法に関する基準」に基づくものとする。

- 1 徐々に石灰乳等の攪拌溶液かくはんに加えて中和させた後、多量の水で希釈して処理する。
- 2 ナトリウム塩とした後、活性汚泥で処理する。
- 3 珪そう土等に吸収させて開放型の焼却炉で焼却する。
- 4 水に溶かし、消石灰等の水溶液を加えて処理した後、希硫酸を加えて中和し、沈殿ろ過して埋立処分する。

問 52 次のうち、クロム酸カルシウムの漏えい時の措置として、最も適当なものはどれか。なお、措置は厚生労働省で定める「毒物及び劇物の運搬事故時における応急措置に関する基準」に基づくものとする。

- 1 飛散したものは空容器にできるだけ回収し、そのあとを還元剤（硫酸第一鉄等）の水溶液を散布し、水酸化カルシウム（消石灰）、炭酸ナトリウム（ソーダ灰）等の水溶液を用いて処理したのち、多量の水で洗い流す。
- 2 漏えいした液は、土砂等でその流れを止め、安全な場所に導き、液の表面を泡で覆いできるだけ空容器に回収する。
- 3 飛散したものは空容器にできるだけ回収し、そのあとを希硫酸を用いて中和し、多量の水で洗い流す。
- 4 漏えい箇所は濡れむしろ等で覆い、遠くから多量の水をかけて洗い流す。

問 53 以下の記述は、ホルマリンについて述べたものである。()の中に入る字句の組み合わせとして、最も適当なものはどれか。

ホルマリンは、刺激臭を有する(a)の液体である。アンモニア水を加え、さらに硝酸銀溶液を加えると、徐々に金属銀を析出する。また、フェーリング溶液とともに熱すると、(b)の沈殿を生じる。

番号	a	b
1	無色	黒色
2	無色	赤色
3	淡黄色	黒色
4	淡黄色	赤色

問 54 次のうち、硫酸に関する記述として、誤っているものはどれか。

- 1 無色無臭の油状液体であり、腐食性が大きい。
- 2 濃硫酸が皮膚に触れた場合、激しいやけどを起こす。
- 3 濃硫酸は水で薄めると、温度が急激に低下する。
- 4 硫酸の希釈水溶液に塩化バリウムを加えると、白色の硫酸バリウムを沈殿する。

問 55 次のうち、酢酸エチルの性状及び漏えい時の措置として、誤っているものはどれか。なお、措置は厚生労働省で定める「毒物及び劇物の運搬事故時における応急措置に関する基準」に基づくものとする。

- 1 果実様の芳香を有する無色の液体である。
- 2 蒸気は空気より軽い。
- 3 引火性があるため、漏えい時は付近の着火源となるものを速やかに取り除く。
- 4 漏えい時の作業の際には、必ず保護具を着用し、風下で作業しない。

問 56 次のうち、メタノールの識別方法に関する記述として、最も適当なものはどれか。

- 1 濃塩酸を潤したガラス棒を近づけると、白い霧を生じる。
- 2 あらかじめ熱灼した酸化銅を加えると、ホルムアルデヒドができ、酸化銅は還元されて金属銅色を呈する。
- 3 水溶液に酒石酸溶液を過剰に加えると、白色結晶性の沈殿を生じる。
- 4 アルコール性の水酸化カリウムと銅粉とともに煮沸すると、黄赤色の沈殿を生じる。

問 57 次のうち、一酸化鉛の廃棄方法として、最も適当なものはどれか。なお、廃棄方法は厚生労働省で定める「毒物及び劇物の廃棄の方法に関する基準」に基づくものとする。

- 1 アルカリ法
- 2 還元沈殿法
- 3 固化隔離法
- 4 回収法

問 58 次のうち、脛酸に関する記述の正しい組み合わせとして、最も適当なものはどれか。

- a 水和物は、4モルの結晶水を有する無色、稜柱状の結晶である。
- b 水溶液を酢酸で弱酸性にして酢酸カルシウムを加えると、結晶性の沈殿を生じる。
- c 水溶液をアンモニア水で弱アルカリ性にして塩化カルシウムを加えると、黒色の沈殿を生成する。
- d 水和物は、注意して加熱すると昇華し、急速に加熱すると分解する。

- 1 (a、c) 2 (a、d) 3 (b、c) 4 (b、d)

問 59 次のうち、アンモニアに関する記述の正しい組み合わせとして、最も適当なものはどれか。

- a 息が詰まるような刺激臭を有する無色の気体である。
- b 酸素中では青色の炎をあげて燃焼する。
- c 液化アンモニアは漏えいすると、空気よりも重いアンモニアガスとして拡散する。
- d 高濃度のアンモニアガスを吸入すると、視覚障害をきたすことがある。

1 (a、c) 2 (a、d) 3 (b、c) 4 (b、d)

問 60 以下の3つの方法で識別する物質として、最も適当なものはどれか。

- ・アルコール溶液に、水酸化カリウム溶液と少量のアニリンを加えて熱すると、不快な刺激性の臭気を放つ。
- ・レゾルシンと33%の水酸化カリウム溶液と熱すると黄赤色を呈し、緑色の蛍石彩を放つ。
- ・ベタナフトールと濃厚水酸化カリウム溶液と熱すると藍色を呈し、空気に触れて緑より褐色に変じ、酸を加えると赤色の沈殿を生じる。

- 1 クロロホルム
- 2 四塩化炭素
- 3 塩酸
- 4 水酸化ナトリウム

フリガナ	マツミ 知
氏名	松波 太郎

年	月	日
5	9	6

特定品目

1. 記入欄・マーク欄以外には記入しないで下さい。
2. 鉛筆で、しっかり濃くマークして下さい。
3. 間違った場合には、消しゴムで、きれいに消して下さい。

マーク例

良い例	<input checked="" type="radio"/>	悪い例	<input type="radio"/>	<input type="radio"/>	<input type="radio"/>
-----	----------------------------------	-----	-----------------------	-----------------------	-----------------------

番 号										
								9	0	1
0	0	0	0	0	0	0	0	0	<input checked="" type="radio"/>	0
1	1	1	1	1	1	1	1	1	1	<input checked="" type="radio"/>
2	2	2	2	2	2	2	2	2	2	2
3	3	3	3	3	3	3	3	3	3	3
4	4	4	4	4	4	4	4	4	4	4
5	5	5	5	5	5	5	5	5	5	5
6	6	6	6	6	6	6	6	6	6	6
7	7	7	7	7	7	7	7	7	7	7
8	8	8	8	8	8	8	8	8	8	8
9	9	9	9	9	9	9	9	<input checked="" type="radio"/>	9	9

問	解答欄				問	解答欄				問	解答欄				問	解答欄								
1	①	②	③	④	21	①	②	③	④	41	①	②	③	④	61	①	②	③	④	81	①	②	③	④
2	①	②	③	④	22	①	②	③	④	42	①	②	③	④	62	①	②	③	④	82	①	②	③	④
3	①	②	③	④	23	①	②	③	④	43	①	②	③	④	63	①	②	③	④	83	①	②	③	④
4	①	②	③	④	24	①	②	③	④	44	①	②	③	④	64	①	②	③	④	84	①	②	③	④
5	①	②	③	④	25	①	②	③	④	45	①	②	③	④	65	①	②	③	④	85	①	②	③	④
6	①	②	③	④	26	①	②	③	④	46	①	②	③	④	66	①	②	③	④	86	①	②	③	④
7	①	②	③	④	27	①	②	③	④	47	①	②	③	④	67	①	②	③	④	87	①	②	③	④
8	①	②	③	④	28	①	②	③	④	48	①	②	③	④	68	①	②	③	④	88	①	②	③	④
9	①	②	③	④	29	①	②	③	④	49	①	②	③	④	69	①	②	③	④	89	①	②	③	④
10	①	②	③	④	30	①	②	③	④	50	①	②	③	④	70	①	②	③	④	90	①	②	③	④
11	①	②	③	④	31	①	②	③	④	51	①	②	③	④	71	①	②	③	④	91	①	②	③	④
12	①	②	③	④	32	①	②	③	④	52	①	②	③	④	72	①	②	③	④	92	①	②	③	④
13	①	②	③	④	33	①	②	③	④	53	①	②	③	④	73	①	②	③	④	93	①	②	③	④
14	①	②	③	④	34	①	②	③	④	54	①	②	③	④	74	①	②	③	④	94	①	②	③	④
15	①	②	③	④	35	①	②	③	④	55	①	②	③	④	75	①	②	③	④	95	①	②	③	④
16	①	②	③	④	36	①	②	③	④	56	①	②	③	④	76	①	②	③	④	96	①	②	③	④
17	①	②	③	④	37	①	②	③	④	57	①	②	③	④	77	①	②	③	④	97	①	②	③	④
18	①	②	③	④	38	①	②	③	④	58	①	②	③	④	78	①	②	③	④	98	①	②	③	④
19	①	②	③	④	39	①	②	③	④	59	①	②	③	④	79	①	②	③	④	99	①	②	③	④
20	①	②	③	④	40	①	②	③	④	60	①	②	③	④	80	①	②	③	④	100	①	②	③	④

この部分には
記入しないこと